

UNIVERSITY OF NEW BRUNSWICK
and
UNIVERSITÉ DE MONCTON

NEW BRUNSWICK MATHEMATICS COMPETITION

22 mai 1998

7^e année

PARTIE A

1. Combien de minutes y a-t-il entre 22h52 aujourd'hui et 1h48 demain?

(A) 124 (B) 176 (C) 270 (D) 904 (E) 1200

2. Le nombre $2\frac{1}{2}$ élevé au carré donne

(A) 4,25 (B) 5,00 (C) 5,50 (D) 6,25 (E) aucune de ces réponses

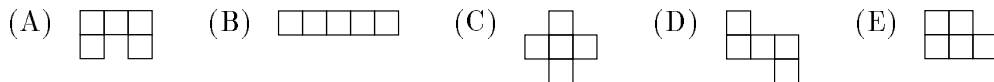
3. Un magasin de vêtements vend des chemises le matin au prix de 5 \$ chacune et accumule des ventes totalisant 300 \$. À midi, le prix des chemises est baissé à 4 \$ et deux fois plus de chemises sont vendues durant l'après-midi. Le total des ventes pour la journée se chiffre à

(A) 540 \$ (B) 580 \$ (C) 780 \$ (D) 840 \$ (E) 1080 \$

4. Une voiture, qui voyage à une vitesse moyenne de 40 km/h, prend $1\frac{1}{2}$ h pour parcourir une certaine distance. Combien de temps serait nécessaire pour parcourir la même distance à une vitesse moyenne de 60 km/h?

(A) $\frac{2}{3}$ h (B) $\frac{3}{4}$ h (C) 1 h (D) $2\frac{1}{4}$ h (E) 3 h

-
5. Les figures suivantes peuvent être générées à l'aide de 5 carrés de 1 cm de longueur. Laquelle de ces figures a le périmètre minimum?



6. Parmi les entiers qui se trouvent, inclusivement, entre 2 et 21, quel est le pourcentage des multiples exacts de 4?

(A) 20 (B) 21 (C) 24 (D) 25 (E) 26

7. Les personnes A, B et C prennent chacune 2 comprimés de vitamine par jour tandis que la personne D en prend 1 seul. De cette façon, une bouteille de comprimés dure 24 jours pour les 4 personnes. Si D en prenait aussi 2 par jour, combien de jours durerait une bouteille de comprimés?

(A) 16 (B) 18 (C) 20 (D) 21 (E) 22

8. S'il travaille 8 heures par jour, Paul peut peindre sa maison en 12 jours. S'il travaille seulement 6 heures par jour, le nombre de jours qui lui sera nécessaire pour peindre sa maison est:

(A) 9 (B) 16 (C) 24 (D) 48 (E) 72

9. Si Michael Jordan a une moyenne de points par partie de 29 après 100 parties jouées, combien de points a-t-il besoin dans les 50 parties restantes pour finir l'année avec une moyenne de 30 points par partie?

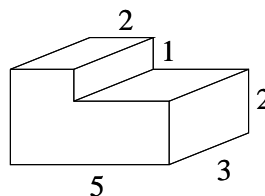
(A) 1000 (B) 1500 (C) 1600 (D) 3000 (E) aucune de ces réponses

10. Une table carrée est telle qu'il est possible d'asseoir une seule personne par côté. Si 20 de ces tables sont collées ensemble de façon à former une longue table étroite, combien pourra-t-on asseoir de personnes?

(A) 22 (B) 40 (C) 42 (D) 88 (E) aucune de ces réponses

PARTIE B

11. Le volume du solide représenté ci-contre est



- (A) 12 (B) 30 (C) 35 (D) 36 (E) 40
-

12. Cinq marchands vendent des raisins à des prix différents. Parmi les choix suivants, lequel représente le meilleur achat?

- (A) 2,5 kg pour 1 \$ (B) 5 kg pour 2,30 \$ (C) 1 kg pour 0,44 \$ (D) 10 kg pour 4,20 \$
 (E) 7,5 kg pour 3,10 \$
-

13. Combien y a-t-il de nombres à 3 chiffres qui contiennent exactement un zéro?

- (A) 81 (B) 100 (C) 162 (D) 200 (E) aucune de ces réponses
-

14. À quoi est égale l'expression suivante:

$$\frac{\frac{1}{2} \times \frac{1}{3} \times \frac{6}{2} \times \frac{4}{3} \times \frac{2}{1} \times \frac{3}{2} \times \frac{4}{3} \times \frac{3}{4} \times \frac{4}{5} \times \frac{5}{6}}{\frac{2}{3} \times \frac{4}{6} \times \frac{6}{2} \times \frac{2}{3} \times \frac{3}{6} \times \frac{2}{3} \times \frac{4}{3}} + 1$$

- (A) $\frac{8}{35}$ (B) $\frac{35}{27}$ (C) $\frac{2}{3}$ (D) $\frac{35}{8}$ (E) aucune de ces réponses
-

15. On considère 5 nombres entiers consécutifs A, B, C, D et E . Si $B + C + D = 63$, alors $A + B + C + D + E$ est égal à:

- (A) 70 (B) 84 (C) 105 (D) 120 (E) information insuffisante
-

16. Soit y un nombre positif et $x = -y$. Lequel des énoncés suivants est faux?

- (A) $x^2y > 0$ (B) $x + y = 0$ (C) $xy < 0$ (D) $\frac{1}{x} - \frac{1}{y} = 0$ (E) $1 + \frac{x}{y} = 0$
-

17. Soit un rectangle de 150 cm de long par 50 cm de large. Quel est l'aire de ce rectangle en m^2 ?

- (A) 0,75 (B) 7,5 (C) 75 (D) 750 (E) 7 500
-

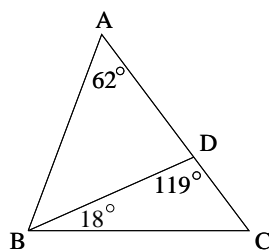
18. Habituellement, le taux de consommation d'essence des automobiles est défini comme étant le nombre de litres d'essence nécessaire pour parcourir 100 km. Si un automobile utilise 1 litre d'essence pour parcourir 12,5 km, quel est le taux de consommation?

- (A) 5 (B) 7 (C) 8 (D) 10 (E) 12,5
-

19. Quinze geais bleus et quatorze orioles sont perchés sur 3 arbres. Au moins quatre geais bleus et 2 orioles sont perchés sur chacun des arbres. Si aucun des arbres n'a plus d'orioles que de geais bleus, quel est le nombre maximum d'oiseaux que l'on puisse retrouver sur un arbre?

- (A) 11 (B) 12 (C) 13 (D) 14 (E) 15
-

20. L'angle ABD , en degrés, est



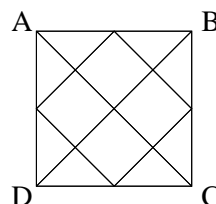
- (A) 47 (B) 57 (C) 80 (D) 110 (E) 137
-

PARTIE C

21. Un ballon rebondit à $\frac{2}{3}$ de la hauteur de laquelle il tombe. Si le second rebond est de 72 cm, quelle est la hauteur de laquelle est initialement tombé le ballon?

(A) 32 (B) 48 (C) 108 (D) 162 (E) aucune de ces réponses

22. Soit le carré ABCD. Combien y a-t-il de triangles sur ce diagramme?

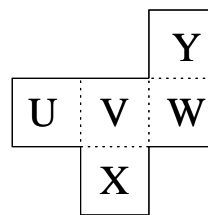


(A) 8 (B) 12 (C) 16 (D) 20 (E) aucune de ces réponses

23. Dans une classe, $\frac{2}{5}$ des garçons et $\frac{1}{3}$ des filles portent des lunettes. Quelle est la proportion des enfants de cette classe qui portent des lunettes?

(A) $\frac{3}{68}$ (B) $\frac{2}{15}$ (C) $\frac{11}{30}$ (D) $\frac{11}{15}$ (E) information insuffisante

24. La feuille ci-contre se plie le long des lignes pointillées et forme une boîte ouverte dont l'ouverture est vers le haut. Laquelle des lettres se retrouve au-dessous?



(A) U (B) V (C) W (D) X (E) Y

25. M. Martin a acheté deux ballons et les a ensuite revendus 1,20 \$ chacun. D'après le prix payé, il a fait un profit de 20% sur une des ventes et une perte de 20% sur l'autre. Sur la vente des deux ballons, il a réalisé:

(A) ni gain, ni perte (B) une perte de 4 cents (C) un gain de 4 cents
 (D) une perte de 10 cents (E) un gain de 10 cents

26. À une altitude de 300 m, la vitesse horizontale d'un avion est de 200 km/h tandis que sa vitesse verticale est inconnue. Supposons que sa vitesse horizontale demeure constante, quelle doit être la vitesse moyenne verticale minimum de l'avion, en km/h, pour éviter une montagne de 500 m de hauteur qui se situe à une distance horizontale de 1 km de l'avion?

- (A) 30 (B) 40 (C) 100 (D) 200 (E) aucune de ces réponses
-